

پانچواں مہینا، چوتھا ہفتہ، پانچواں دن

سلیبس: ذہرائی ٹیسٹ، سلیبس (چوتھا ہفتہ)

سوال نمبر 1: درج ذیل سوالات کے مختصر جواب لکھیں۔

$$(3 \times 2 = 6)$$



(i) تمام انسان پیداؤشی لحاظ سے کیسے ہیں؟

(ii) اچھی عادات کیا ہیں؟

(iii) کوئی سے دو مواقع لکھیں جب آپ نے قطار میں کھڑے ہو کر اپنی باری کا انتظار کیا ہو۔

سوال نمبر 2۔ (الف): نیچے دی گئی تصویروں کو پہچانیں اور ان کے نام لکھیں۔

(2)



(ب): نیچے دیے گئے بیانات میں درست کے ✓ اور غلط کے سامنے X کا نشان لگائیں۔

$$(0.5 \times 4 = 2)$$

■ لائن میں کھڑے ہوتے ہوئے دھکا دینا

■ دوسروں کا خیال کرنا

■ ہر ایک کی عزت کرنا اور احترام سے پیش آنا

■ ہر ایک کا مذاق اڑانا

پانچواں مہینا، چوتھا ہفتہ، پانچواں دن

سلیبس: ذہرائی ٹیسٹ، سلیبس (چوتھا ہفتہ)

سوال نمبر 1: درج ذیل سوالات کے مختصر جواب لکھیں۔

$$(3 \times 2 = 6)$$



(i) تمام انسان پیداؤشی لحاظ سے کیسے ہیں؟

(ii) اچھی عادات کیا ہیں؟

(iii) کوئی سے دو مواقع لکھیں جب آپ نے قطار میں کھڑے ہو کر اپنی باری کا انتظار کیا ہو۔

سوال نمبر 2۔ (الف): نیچے دی گئی تصویروں کو پہچانیں اور ان کے نام لکھیں۔

(2)



(ب): نیچے دیے گئے بیانات میں درست کے ✓ اور غلط کے سامنے X کا نشان لگائیں۔

$$(0.5 \times 4 = 2)$$

■ لائن میں کھڑے ہوتے ہوئے دھکا دینا

■ دوسروں کا خیال کرنا

■ ہر ایک کی عزت کرنا اور احترام سے پیش آنا

■ ہر ایک کا مذاق اڑانا